



I. تمهيد :

01. نوع المسائل التي نريد حلها :

مثال 1 :

- صندوق يحتوي على 5 كرات مرقمة من 1 إلى 5. نسحب كرتين من الصندوق على الشكل التالي .
- الحالة 1 : السحب للكرتين يكون بالتتابع وبارجاع الكرة الأولى المسحوبة إلى الصندوق . (السحب بالتتابع و بإحلال طوله 2)
- الحالة 2 : السحب للكرتين يكون بالتتابع وبدون إرجاع الكرة الأولى المسحوبة إلى الصندوق . (السحب بالتتابع وبدون بإحلال طوله 2)
- الحالة 3 : السحب للكرتين يكون دفعة واحدة (أي في نفس الوقت أو أيضا في آن واحد) (السحب بتأي طوله 2)
1. ما هو عدد السحبات الممكنة ؟ (في كل حالة)
2. ما هو عدد السحبات حيث الكرتين تحملان رقم زوجي ؟ مجموع الرقمين يكون أصغر من 4 ؟ (في كل حالة) .

مثال 2 :

- A و B و C و D و E 5 نقط من المستوى حيث كل 3 نقط من بين هذه النقط غير مستقيمة .
1. ما هو عدد المتجهات التي يمكن إنشاؤها و طرفيها نقطتين من بين هذه النقط تبعا للحالتين ؟
- أ - نقطتين.
- ب - نقطتين مختلفتين .
- ج - A و B و C و D و E تمثل الحروف الأولى ل 5 متسابقين في العدوي الريفي . نهتم بالرتب المحصل عليها من طرفهم بعد انتهاء السباق مع العلم أن أي رتبة لا تحتل إلا من طرف متسابق واحد و واحد فقط .
2. أ - ما هو عدد المستقيمات التي يمكن إنشاؤها و المارة من نقطتين مختلفتين من بين هذه النقط ؟
- ب - ما هو عدد المثلثات التي يمكن رسمها حيث رؤوسه هي هذه النقط ؟

02. الهدف من الدرس :

- الهدف من الدرس هو إعطاء الأدوات و المنهجية و المبرهنات لكي يكون الجواب واضح و صحيح و بكل سرعة .
- لكن هذه المبرهنات خاصة بدروس المتعلقة " بالمجموعات و التطبيقات " و لتطبيق هذه الدروس يجب تريض المسألة المطروحة علينا أي بتأويل ألفاظ النص إلى ألفاظ : المجموعات - الأجزاء - الأزواج - المتلوثات - و بصفة عامة p - uplets - التطبيقات - التطبيقات الشمولية - التطبيقات التباينية - التطبيقات التقابلية

II. مجموعة منتهية - رئيسي مجموعة :

01. تعريف :

E مجموعة و n عدد صحيح طبيعي غير منعدم .

إذا كان عدد عناصر المجموعة E هو n عنصر نقول إن المجموعة E هي مجموعة منتهية .

العدد n يسمى رئيسي المجموعة E . و نرسم له ب : $\text{card}E = n$.

02. أمثلة :

E = {a, b, c, f} مجموعة منتهية و $\text{card}E = 4$. أما المجموعات \mathbb{N} أو \mathbb{R} أو $[0,1[$.. فهي غير منتهية.

03. مجموعاتان متقدرتان: Ensembles équipotents:

1- تعريف:

A و B مجموعتان منتهيتان. إذا وجد تطبيق تقابلي بين A و B نقول إن المجموعتان A و B متقدرتان .

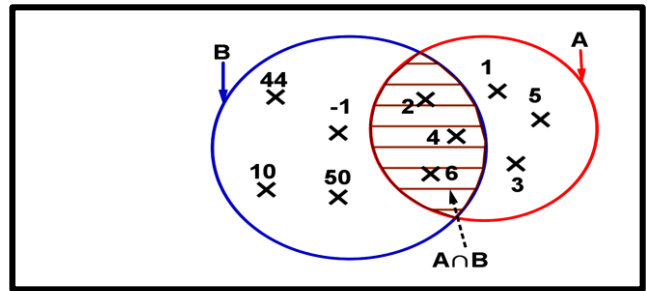
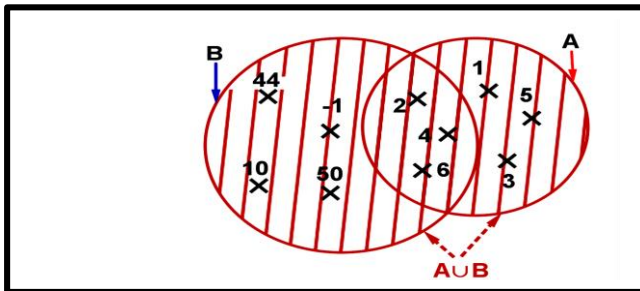
2- خاصية :

A و B مجموعتان منتهيتان. A و B متقدرتان إذا و فقط إذا كان $\text{card}A = \text{card}B$



04. العمليات بين المجموعات المنتهية و رئيسي: (A و B مجموعتان منتهيتان حيث: $\text{card}A = p$ و $\text{card}B = n$)

1- رئيسي التقاطع و الاتحاد:



▪ $\text{card}A \cap B = \text{card}A + \text{card}B$: لدينا ($A \cap B = \emptyset$) مجموعتان منفصلتان

▪ $\text{card}A \cap B = \text{card}A + \text{card}B - \text{card}A \cap B$: بصفة عامة

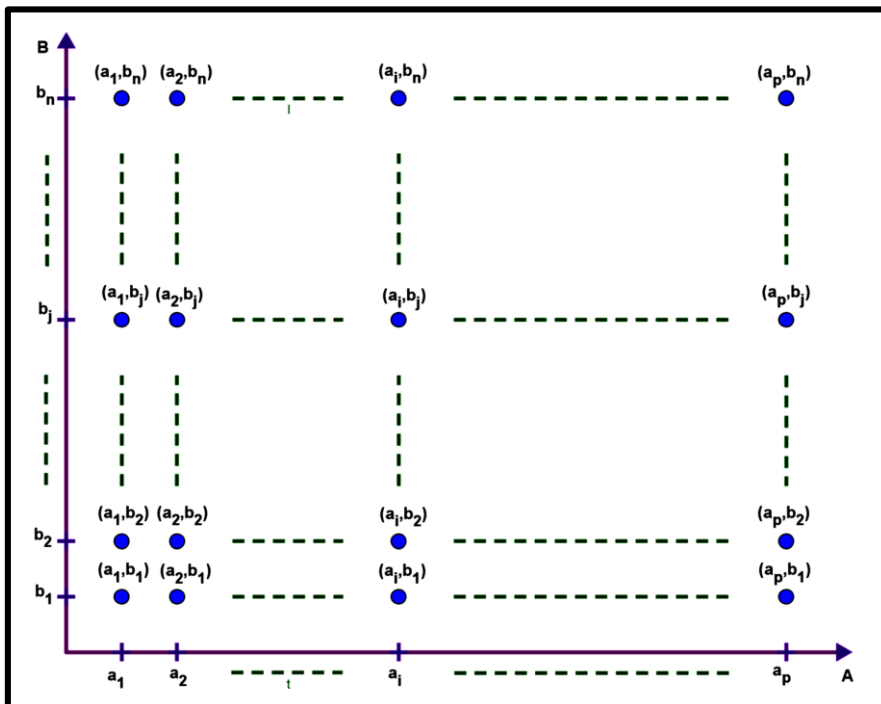
2- رئيسي الجداء الديكارتي :

▪ $\text{card}A \times B = \text{card}A \times \text{card}B$: لدينا $\text{card}B = n$ و $\text{card}A = p$ مع A و B مجموعتان منتهيتان وغير فارغتان

▪ **بصفة عامة :**

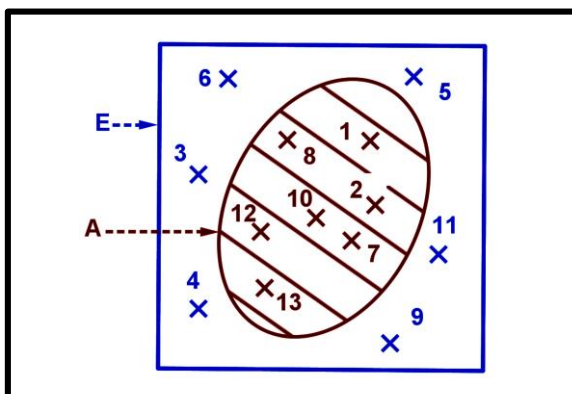
▪ $\text{card}E_1 \times E_2 \times \dots \times E_p = \text{card}E_1 \times \text{card}E_2 \times \dots \times \text{card}E_p$: لدينا E_p و \dots ; E_2 ; E_1 مجموعات منتهية و غير فارغة لدينا

حالة خاصة: $E_1 = E_2 = \dots = E_p = E$ إذن: $\text{card}E^p = (\text{card}E)^p$



3- رئيسي متمم جزء A في E :

لدينا: $\text{card}\bar{A} = \text{card}E - \text{card}A$ مع $C_E^A = \bar{A} = E \setminus A$





III. المبدأ الأساسي للتعداد :

01. تمهيد :

لنعتبر الأرقام التالية : 3 و 4 و 5

نبحث عن عدد الأعداد التي يتم تكوينها من رقمين مختلفين من بين الأرقام السابقة .

طريقة " عفوية " : يمكن أن نجد الأعداد التالية :

34 - 53 - 43 - 35 - 45 - 54 إذن هناك 6 أعداد

طريقة أخرى :

لدينا كل عدد مكون من رقمين يكتب على شكل ba

رقم a يمثل الوحدات ؛ رقم b يمثل العشرات

- الاختيار الأول يكون لرقم الوحدات a عدد الكيفيات لاختياره هو 3.
- الاختيار الثاني يكون لرقم العشرات b عدد الكيفيات لاختياره هو 2.
- عدد الأعداد هي 2×3
- وهذه الكيفيات يمكن تمثيلها على الشكل التالي ويسمى شجرة الإمكانيات.

الاختيار الأول: Premier choix .

عدد الكيفيات : nombres des manières .

شجرة الإمكانيات : arbre des cas

02. مبدأ الجداء

نعتبر تجربة تشمل p اختيارا. مع $(p \in \{1, 2, 3, \dots\})$

- إذا كان الاختيار الأول يتم ب: n_1 كيفية مختلفة.
- إذا كان الاختيار الثاني يتم ب: n_2 كيفية مختلفة.
- إذا كان الاختيار الثالث يتم ب: n_3 كيفية مختلفة
-
- إذا كان الاختيار الذي رقمه p يتم ب: n_p كيفية مختلفة.

فإن عدد الكيفيات التي يتم بها ال p اختيارات هو $n_1 \times n_2 \times n_3 \times \dots \times n_p$

03. مثال:

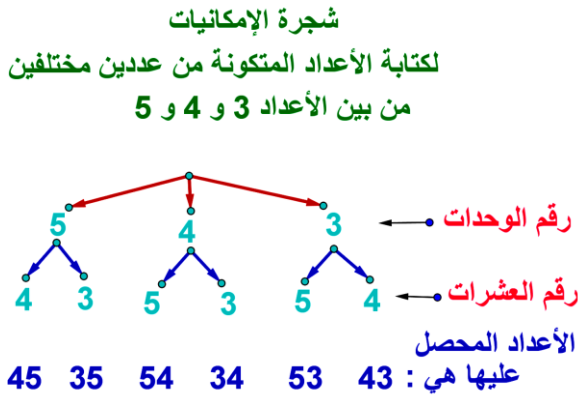
نرمي نردا (له 6 وجوه) مرتين متتاليتين .

كل نتيجة مكونة من نتيجة الرمية الأولى ثم من بعد ذلك نتيجة الرمية الثانية تسمى نتيجة ممكنة أو إمكانية

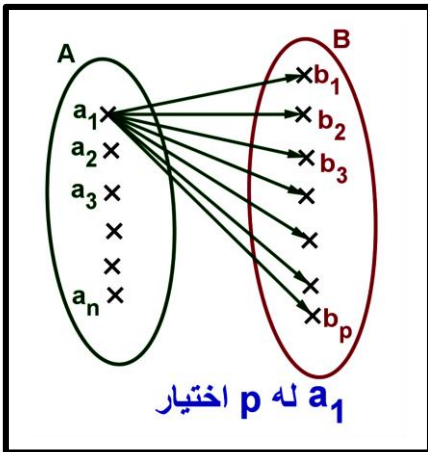
- حدد عدد النتائج الممكنة.
 - الرمية الأولى تعطي 6 اختيارات (6 نتائج أو 6 حالات).
 - الرمية الثانية تعطي 6 اختيارات (6 نتائج أو 6 حالات).
 - عدد النتائج الممكنة بعد رميتين هو $6 \times 6 = 36$
- حدد عدد النتائج الممكنة حيث في الرمية الأولى نحصل على عدد زوجي .
 - في الرمية الأولى هناك 3 اختيارات (نتائج ممكنة).
 - في الرمية الثانية هناك 6 اختيارات (نتائج ممكنة).
 - ومنه : عدد النتائج الممكنة هو $3 \times 6 = 18$

IV. عدد التطبيقات من مجموعة E نحو مجموعة F (E و F منتهيتان وغير فارغتين)

01. نشاط :



A و B مجموعتان منتهيتان وغير فارغتين. نريد تحديد عدد التطبيقات من مجموعة A نحو مجموعة B مع $\text{card}A = n$ و $\text{card}B = p$ نضع $A = \{a_1, a_2, \dots, a_n\}$ و $B = \{b_1, b_2, \dots, b_p\}$.



- نأخذ a_1 من A له p اختيار كصورة من B .
 - نأخذ a_2 من A له p اختيار كصورة من B .
 -
 -
 - نأخذ a_n من A له p اختيار كصورة من B .
- ومنه : عدد التطبيقات من A نحو B هو :

$$\underbrace{p \times p \times \dots \times p}_n = p^n = (\text{card}B)^{\text{card}A}$$

02. خاصية :

A و B مجموعتان منتهيتان وغير فارغتين عدد التطبيقات من A نحو B هو : $(\text{card}B)^{\text{card}A}$

03. مثال 1 :



نرمي نردا مرتين متتاليتين . كل نتيجة متكونة من نتيجة الرمية الأولى ثم من بعد ذلك نتيجة الرمية الثانية تسمى نتيجة ممكنة أو إمكانية .

3. حدد عدد النتائج الممكنة.
 - الرمية الأولى تعطي 6 اختيارات (6 نتائج أو 6 حالات) .
 - الرمية الثانية تعطي 6 اختيارات (6 نتائج أو 6 حالات) .
 - عدد النتائج الممكنة بعد رميتين هو $6 \times 6 = 36$
4. حدد عدد النتائج الممكنة حيث في الرمية الأولى نحصل على عدد زوجي .
 - في الرمية الأولى هناك 3 اختيارات (نتائج ممكنة) .
 - في الرمية الثانية هناك 6 اختيارات (نتائج ممكنة) .
 - ومنه : عدد النتائج الممكنة هو $3 \times 6 = 18$

طريقة ثانية :

نعتبر المجموعتين $A = \{L_1, L_2\}$ و $B = \{1, 2, 3, 4, 5, 6\}$

مع L_1 القذفة الأولى L_2 القذفة الثانية.

- عندما نقذف النرد في المرة الأولى يعطي مثلا 5 و القذفة الثانية تعطي 3 . هذه النتيجة المحصل عليها بعد الرميتمثل التطبيق التالي .
- ومنه كل نتيجة محصل عليها بعد القذفتين تمثل تطبيق من A نحو B .
- بالتالي عدد النتائج المحصل عليها هو عدد التطبيقات من A نحو B .
- خلاصة : عدد النتائج المحصل عليها هو : $(\text{card}B)^{\text{card}A} = 6^2 = 36$

04. مثال 2 :

لقطعة نقود وجهين : **فظهر القطعة** نرسم له ب: **P (PILE)**؛ **وجه القطعة** الآخر نرسم له ب: **F (face)**

نرمي قطعة نقود ثلاثة مرات متتالية (عندما نكتب أن النتيجة كانت: **PPF** نقصد أن القذفة الأولى أعطت **F** و القذفة 2 أعطت **P** والقذفة 3 أعطت **P**) .

حدد عدد النتائج الممكنة . (أعط الجواب)

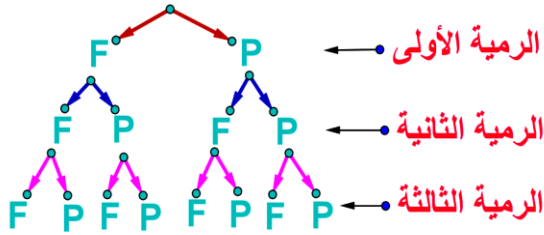
جواب: عند رمينا للقطعة النقود ثلاث مرات متتالية لدينا:



- الرمية الأولى تعطي : نتيجتين مختلفتين
- ولكل نتيجة للرمية الأولى هناك نتيجتين للرمية الثانية.
- ولكل نتيجة للرمية الثانية هناك نتيجتين للرمية الثالثة .
- إذن سيكون عدد نتائج بعد الرمية الثالثة هو $2 \times 2 \times 2 = 8$

ملحوظة: هذه التجربة يمكن تمثيلها في التمثيل التالي يسمى شجرة الإمكانيات.

شجرة الإمكانيات لذف قطعة نقدية 3 مرات متتابة



V. الترتيبات بدون تكرار:

01. ترتيبية (مثال) :

سباق في العدو الريفي جرى بين 4 عدائين A و B و C و D بعد انتهاء السباق كان توزيع جوائز فقط كالتالي 50 000 dh للرتبة الأولى و 10 000 dh للرتبة الثانية المحصل عليها من طرف العدائين مع العلم أن أي رتبة لا يمكن أن يحتلها أكثر من عداء .

- أعط حالة لتوزيع الجائزتين على العدائين الأربعة.

1- جواب :

- نعطي حالة:

توزيع الجائزة الأولى على العداء D و الجائزة الثانية على B نمثلها باختصار ب $\begin{matrix} 1 & 2 \\ D & B \end{matrix}$ أو باختصار ب DB . وهذه النتيجة ليست

كالنتيجة BD المحصل عليها بعد انتهاء السباق .

2- مفردات :

كل نتيجة محصل عليه بعد انتهاء السباق تسمى ترتيبية بدون تكرار لعنصرين من بين 4 عناصر

3- تعريف :

لتكن مجموعة تحتوي على n عنصر مع $(n \in \{1, 2, 3, \dots\})$

ليكن p عددا صحيحا طبيعيا حيث $1 \leq p \leq n$

كل ترتيبية ل p عنصر مختار من بين n عنصر يسمى ترتيبية بدون تكرار ل p عنصر من بين n عنصر .

4- ملحوظة:

- لسحب كرتين (أو 3 كرات ..) بالتتابع وبدون إحلال (أي بدون إرجاع الكرة المسحوبة إلى الصندوق) يحتوي على n كرة. كل سحبة تمثل ترتيبية ل 2 من بين n (أو 3 من بين n ..).
- $n \in \mathbb{N}^*$ العدد $1 \times 2 \times 3 \times 4 \times \dots \times n$ يرمز له ب: $n!$ إذن $n! = 1 \times 2 \times 3 \times 4 \times \dots \times n$ ويقراً : n عاملي.
- مثال : $3! = 1 \times 2 \times 3 = 6$
- نضع : $1! = 1$ و $0! = 1$.

02. عدد الترتيبات :

1- خاصية:

عدد الترتيبات : ل p عنصر من بين n عنصر (مع $1 \leq p \leq n$) هو العدد الصحيح الطبيعي الذي نرسم له بالرمز A_n^p حيث :

$$A_n^p = \underbrace{n \times (n-1) \times (n-2) \times \dots \times (n-p+1)}_p = \frac{n!}{(n-p)!}$$

2- أمثلة:

مثال 1: نحسب : $A_3^2 = 3 \times 2 = 6$ (هناك عاملين) . نحسب $A_5^3 = 5 \times 4 \times 3 = 60$ (هناك 3 عوامل) .



مثال 2 :

يحتوي كيس على 5 كرات حمراء و 2 من اللون الأخضر . نسحب عشوانيا وبتتابع وبدون إحلال كرتين من الصندوق (أي بدون إرجاع الكرة الأولى إلى الصندوق).

1- ما هو عدد السحبات الممكنة

2- ما هو عدد السحبات التي تكون فيها الكرتين من اللون الأحمر

جواب:

الطريقة الأولى:

1 عدد السحبات الممكنة

الكرة الأولى المسحوبة لها 7 اختيارات

الكرة الثانية المسحوبة لها 6 اختيارات (لأن الكرة الأولى تبقى خارج الصندوق)

إذن عدد السحبات الممكنة هو $7 \times 6 = 42$

الطريق الثانية:

كل سحبة لكرتين بتتابع و بدون إحلال من بين 7 كرات يمثل ترتيبية ل 2 من بين 7 ؛ إذن عدد السحبات هو عدد الترتيبات ل 2 من بين 7 .

$$A_7^2 = \frac{7!}{(7-2)!} = \frac{7!}{5!} = 7 \times 6 = 42$$

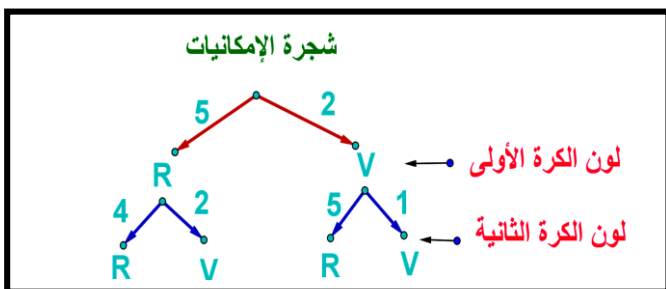
2 عدد السحبات التي تكون فيها الكرتين من اللون الأحمر

الكرة الأولى المسحوبة حمراء لها 5 اختيارات .

الكرة الثانية المسحوبة حمراء لها 4 اختيارات (لأن الكرة الأولى المسحوبة كانت حمراء)

إذن عدد السحبات الممكنة الكرتين من اللون أحمر $5 \times 4 = 20$

ملحوظة : يمكن استعمال شجرة الإمكانيات .



3- ملاحظات :

$$A_n^n = n \times (n-1) \times (n-2) \times \dots \times 2 \times 1 = n! \quad \text{و} \quad A_n^0 = \frac{n!}{(n-0)!} = 1 \quad \text{و} \quad A_n^1 = \frac{n!}{(n-1)!} = n$$

VI. التباديلات :

حالة خاصة بالنسبة لترتيبات: ترتيب n عنصر من بين n عنصر.

1- نشاط :

سباق في العدو الريفي جرى بين 4 عدائين : A و B و C و D .
 نهتم بالترتيب المحصل عليه من طرف العدائين بعد انتهاء السباق مع العلم أن أي رتبة لا يمكن أن يحتلها أكثر من عداء .
 لناخذ النتيجتين التاليتين : DABC ثم CBDA .. ماذا حدث لترتيب المتسابقين الأربعة بالنسبة للنتيجتين ؟

2- تعريف :

إذا رتبنا n عنصر من بين n عنصر (أي $p = n$) هذه الترتيبية تسمى **تبديلة** ل n عنصر .

3- خاصية :

$$\text{عدد تبديلات ل } n \text{ عنصر هو العدد } n! \text{ مع } n! = 1 \times 2 \times 3 \times \dots \times (n-1) \times n$$

4- مثال :

سباق في العدو الريفي جرى بين 4 عدائين : A و B و C و D .
 ما هي النتائج المحصل عليها بعد انتهاء السباق مع العلم أن أي رتبة لا يمكن أن يحتلها أكثر من عداء .

جواب:

كل نتيجة نحصل عليها بعد السباق تمثل تبديلة ل 4 .

إذن عدد النتائج المحصل عليها بعد إجراء السباق هي عدد التبديلات ل 4 . ومنه عدد النتائج هو $4! = 1 \times 2 \times 3 \times 4 = 24$



VII. التاليفات :

01. تأليفة :

1- مثال :

لنعتبر المجموعة الآتية : $E = \{a, b, c, d\}$. نبحث عن عدد الأجزاء التي تحتوي على عنصرين من E .

الأجزاء هي: $\{a, b\}$ و $\{a, c\}$ و $\{a, d\}$ و $\{b, c\}$ و $\{b, d\}$ و $\{c, d\}$ إذن هناك 6 أجزاء ،

3- مفردات : كل جزء يسمى تأليفة لعنصرين من بين أربعة عناصر

3- ملحوظة :

• الجزء $\{a, b\} = \{b, a\}$ إذن الترتيب غير مهم في التأليفة.

• لسحب كرتين (أو 3 كرات ...) و في آن واحد من الصندوق (أي دفعة واحدة) يحتوي على n كرة. كل سحبة تمثل تأليفة ل 2 من بين n (أو 3 من بين n ...)

4- تعريف :

لكن E مجموعة تحتوي على n عنصر مع $(n \in \{1, 2, 3, \dots\})$

كل جزء من E يحتوي على p عنصر $(p \leq n)$ يسمى تأليفة ل p عنصر من بين n عنصر.

02. عدد التاليفات :

1- خاصية:

عدد التاليفات ل p $(p \in \{0, 1, 2, 3, \dots\})$ عنصر من بين n عنصر هو العدد الصحيح الطبيعي الذي نرمز له ب :

$$C_n^p = \frac{A_n^p}{p!} = \frac{n!}{(n-p)! \times p!} = \frac{n \times (n-1) \times (n-2) \times \dots \times (n-p+1)}{1 \times 2 \times 3 \times \dots \times p}$$

$$C_7^3 = \frac{7 \times 6 \times 5}{1 \times 2 \times 3} = 35 \quad C_n^p = \frac{n!}{(n-p)! \times p!} \quad \text{2- مثال :}$$

$$C_n^0 = 1 \text{ و } C_n^1 = n \text{ و } C_n^n = 1 \quad \text{3- ملحوظة:}$$

4- مثال : يحتوي كيس على 4 كرات حمراء R و 3 كرات من اللون الأخضر V .

نسحب عشوائيا و في آن واحد ثلاث كرات من الصندوق .

1- ما هو عدد السحبات الممكنة

2- ما هو عدد السحبات حيث الكرات كلها حمراء .

3- ما هو عدد السحبات حيث نحصل على كرة واحدة فقط حمراء من بين الكرات 3 المسحوبة .

■ جواب:

$$1- C_7^3 = 35 \quad (2) \quad C_4^3 = 4 \quad (3) \quad C_4^1 \times C_3^2 = 4 \times 3$$

VIII. حدانية نيوتن : BINOMES DE NEWTON

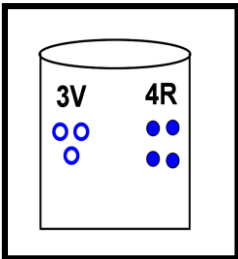
1- خاصيات معاملات حدانية: n و p من \mathbb{N} حيث $0 \leq p \leq n$.

• تماثلية: $C_n^p = C_n^{n-p}$. (بين ذلك) . نتائج : $C_n^0 = C_n^n = 1$ و $C_n^1 = C_n^{n-1} = n$.

مثال : عدد كيفية اختيار ممثلين لقسم مكون ن 40 تلميذ يساوي عدد كيفية اختيار 38 تلميذ من بين 40 تلميذ.

• علاقة باسكال: relation de Pascal : $C_n^p + C_n^{p+1} = C_{n+1}^{p+1}$ مع n و p من \mathbb{N} حيث $0 \leq p \leq n-1$.

(بين على ذلك بالترجع)





2- مثلث باسكال : triangle de Pascal.

$\begin{matrix} p \\ n \end{matrix}$	0	1	2	3	4	5	6	...	p	p+1	...	n-1	n	n+1
0	1													
1	1	1												
2	1	2	1											
3	1	3	3	1										
4	1	4	6	4	1									
5	1	5	10	10	5	1								
6	1	6	15	20	15	6	1							
⋮								1						
p									1					
p+1										1				
⋮											1			
n-1												1		
n													1	
n+1														1

3- حدانية نيوتن :
خاصية:

$$\forall n \in \mathbb{N}^* : (a+b)^n = \sum_{i=0}^{i=n} C_n^i a^{n-i} b^i \quad \text{ليكن } a \text{ و } b \text{ من } \mathbb{R} \text{ لدينا :}$$

4- تطبيق:

• أحسب : $(1+1)^n$ بطريقتين مختلفتين :

$$\text{لدينا : } 2^n = (1+1)^n = \sum_{i=0}^{i=n} C_n^i 1^{n-i} 1^i = \sum_{i=0}^{i=n} C_n^i = C_n^0 + C_n^1 + \dots + C_n^n$$

$$\text{ومنه : } \sum_{i=0}^{i=n} C_n^i = C_n^0 + C_n^1 + \dots + C_n^n = 2^n$$



• $\text{card}(\mathcal{P}(E))$: عدد الأجزاء التي لها 0 عنصر هو C_n^0 ؛ عدد الأجزاء التي لها 1 عنصر هو C_n^1 ؛ عدد الأجزاء التي لها

n عنصر هو C_n^n ؛ ومنه عدد الأجزاء ل E هو $C_n^0 + C_n^1 + C_n^2 + \dots + C_n^n = (1+1)^n = 2^n$

5- برهان لحدانية نيوتن : نستدل على ذلك بالترجع :

• نتحقق بأن العلاقة صحيحة ل : $n = 1$.

• لدينا : $\sum_{i=0}^{i=1} C_n^i a^{1-i} b^i = C_1^0 a^{1-0} b^0 + C_1^1 a^{1-1} b^1 = 1a + 1b = a + b = (a + b)^1$ إذن العلاقة صحيحة ل $n = 1$.

• نفترض ان العلاقة صحيحة إلى الرتبة n : إذن $(a + b)^n = \sum_{i=0}^{i=n} C_n^i a^{n-i} b^i$ مع $n \in \mathbb{N}^*$ (معطيات التراجع)

• نبين أن العلاقة صحيحة للرتبة $n + 1$ أي نبين أن : $(a + b)^{n+1} = \sum_{i=0}^{i=n+1} C_{n+1}^i a^{n+1-i} b^i$ ؟ لدينا:

$$(a + b)^{n+1} = (a + b)^n (a + b)$$

$$= \sum_{i=0}^{i=n} C_n^i a^{n-i} b^i (a + b)$$

$$= a \sum_{i=0}^{i=n} C_n^i a^{n-i} b^i + b \sum_{i=0}^{i=n} C_n^i a^{n-i} b^i$$

$$= \sum_{i=0}^{i=n} C_n^i a^{n-i+1} b^i + \sum_{i=0}^{i=n} C_n^i a^{n-i} b^{i+1}$$

$$= C_n^0 a^{n+1} b^0 + \sum_{i=1}^{i=n} C_n^i a^{n-i+1} b^i + \sum_{i=0}^{i=n-1} C_n^i a^{n-i} b^{i+1} + C_n^n a^{n-n} b^{n+1}$$

$$= a^{n+1} + \sum_{i=1}^{i=n} C_n^i a^{n-i+1} b^i + \sum_{i=0}^{i=n-1} C_n^i a^{n-i} b^{i+1} + b^{n+1}$$

$$= a^{n+1} + \sum_{i=1}^{i=n} C_n^i a^{n-i+1} b^i + \sum_{j=1}^{j=n} C_n^{j-1} a^{n-j+1} b^{j-1+1} + b^{n+1} ; (i = j-1)$$

$$= a^{n+1} + \sum_{k=1}^{k=n} C_n^k a^{n-k+1} b^k + \sum_{k=1}^{k=n} C_n^{k-1} a^{n-k+1} b^k + b^{n+1} ; (j = k)$$

$$= a^{n+1} + \sum_{k=1}^{k=n} C_n^k a^{(n+1)-k} b^k + \sum_{k=1}^{k=n} C_n^{k-1} a^{(n+1)-k} b^k + b^{n+1}$$

$$= a^{n+1} + \sum_{k=1}^{k=n} (C_n^k + C_n^{k-1}) a^{(n+1)-k} b^k + b^{n+1}$$

$$= C_{n+1}^0 a^{n+1} b^0 + \sum_{k=1}^{k=n} (C_n^k + C_n^{k-1}) a^{n-k+1} b^k + C_{n+1}^n a^0 b^{n+1}$$

$$= C_{n+1}^0 a^{n+1} b^0 + \sum_{k=1}^{k=n} C_{n+1}^k a^{n-k+1} b^k + C_{n+1}^n a^0 b^{n+1} ; (C_n^{k-1} + C_n^k = C_{n+1}^k)$$

$$= \sum_{k=0}^{k=n+1} C_{n+1}^k a^{n-k+1} b^k = \sum_{j=0}^{j=n+1} C_{n+1}^j a^{n-j+1} b^j$$

• إذن العلاقة صحيحة للرتبة $n + 1$. خلاصة : $(a + b)^n = \sum_{i=0}^{i=n} C_n^i a^{n-i} b^i$ مع $\forall n \in \mathbb{N}^*$ من \mathbb{R} من a و b .